

2025年度

慶應義塾湘南藤沢中等部入学試験問題

# 社 会

	千位	百位	十位	一位		
受験番号					氏名	

- 注 意
1. 受験番号と氏名は、問題用紙および解答用紙のそれぞれに必ず記入すること。
  2. 受験番号は、下記のように所定のらんに一字一字記入すること。  
〔例〕            7 → 0 0 0 7  
                    7 7 → 0 0 7 7  
                    7 7 7 → 0 7 7 7  
                    4 0 0 7 → 4 0 0 7
  3. 解答用紙の右下の○の中に受験番号の一の位を算用数字で記入すること。
  4. 解答は、必ず解答用紙の所定のらんに記入すること。
  5. 問題用紙の余白は下書きに用いてよろしい。
  6. この冊子の総ページ数は8ページである。

《指示があるまで開かないこと》

【1】 慶一君は中部地方の三つの県について調べました。下の図1は三つの県を表した地図です。

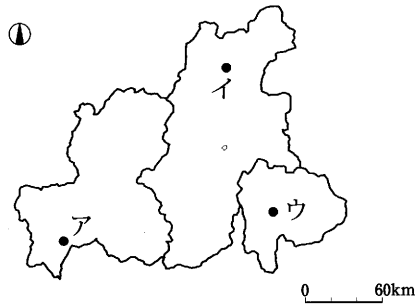
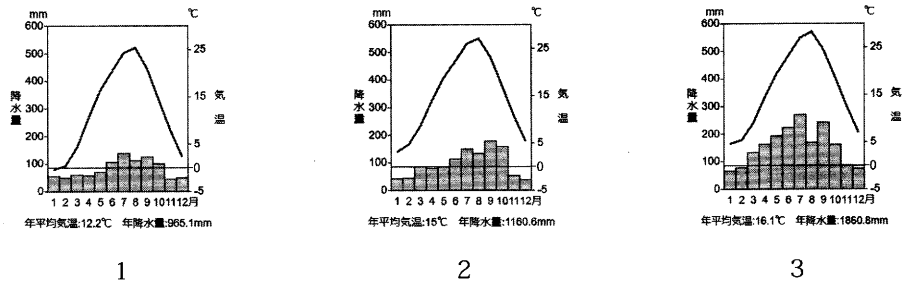


図1

問1 三つの県のうち、県の範囲から日本海に向かって流れる河川がない県を選び、番号で答えなさい。

- 1 山梨県      2 長野県      3 岐阜県

問2 下の図は図1中のア～ウのいずれかの気候の特色を表したものです。それぞれ最も適するものを選び、番号で答えなさい。



問3 下の図2は三つの県の工業の特色を表したものです。図2中のカ～クと県の組み合わせとして、もっとも適するものを選び、番号で答えなさい。 (日本国勢図会2024/25より作成)

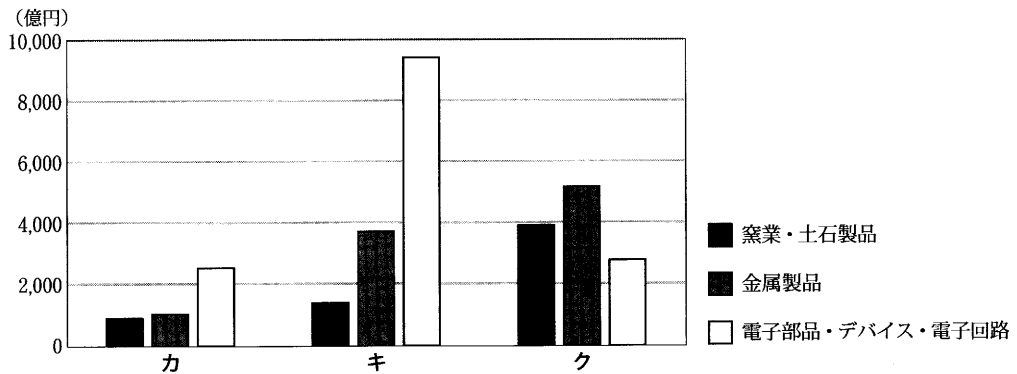


図2 山梨県、長野県、岐阜県の工業生産の特色 (2021年)

(注) 窯業…<sup>よう</sup>陶磁器などを生産する産業のこと

選択肢

	1	2	3	4	5	6
カ	山梨県	山梨県	長野県	長野県	岐阜県	岐阜県
キ	長野県	岐阜県	山梨県	岐阜県	山梨県	長野県
ク	岐阜県	長野県	岐阜県	山梨県	長野県	山梨県

問4 下の表1は三つの県の農業の特色を表したものです。表中のサ～スと県の組み合わせとして、もっとも適するものを番号で答えなさい。水田率は2020年，野菜，果物，畜産の産出額は2021年です。

表1 長野県，岐阜県，山梨県の農業の特色

	水田率 (%) 2022年	2021年の産出額 (億円)		
		野菜	果物	畜産
サ	76.6	353	61	424
シ	49.1	866	870	262
ス	33.0	119	789	78

(帝国書院地理データファイル2024年度版より作成)

選択肢

	1	2	3	4	5	6
サ	山梨県	山梨県	長野県	長野県	岐阜県	岐阜県
シ	長野県	岐阜県	山梨県	岐阜県	山梨県	長野県
ス	岐阜県	長野県	岐阜県	山梨県	長野県	山梨県

【2】文を読み問に答えなさい。

近畿地方には、(ア) 都がおかれていたころから受け継がれている歴史の古い寺院や遺跡があります。近畿地方の南部には険しい山地の地形が見られる (イ) 紀伊半島があります。

大阪は商業が盛んな町として発展してきました。江戸時代に福澤諭吉は緒方洪庵が開いた (あ) で蘭学を学びました。

(ウ) 大阪には、となりあう府県からたくさんの人が通勤、通学しています。(エ) 大阪に向かう鉄道の沿線には新しい住宅地が作られて昔ながらの風景が大きく変化しています。

問1 下線(ア)について、下の語群の中で最も古い時代に作られた寺院を選び、番号で答えなさい。

- 1 東大寺    2 法隆寺    3 唐招提寺    4 薬師寺

問2 下線(イ)について、説明した文として適当でないものを選び、番号で答えなさい。

(統計データは日本国勢図会2024/25より)

- 1 和歌山県は2022年のミカン、カキ、ウメの生産量がいずれも日本で最も多い。
- 2 質の高いスギやヒノキの産地として古くから知られている。
- 3 世界遺産となった熊野古道があり、外国から訪れる人もいる。
- 4 海岸には海とつながった浅い湖があり、貝の養殖が盛んに行われている。

問3 文中の空らん(あ)に最も適するものを下の語群から選び、番号で答えなさい。

- 1 松下村塾    2 適塾    3 開智学校    4 昌平坂学問所    5 足利学校

問4 下線(ウ)について、大阪府には2020年に71.7万人の人が、住んでいる府県から通勤・通学していました。表は2020年に京都府、奈良県、兵庫県から大阪府に通勤・通学した人数とそれぞれの府県の昼間と夜間の人口を示したものです。ア～ウの府県の組み合わせとして最も適当なものを選び、番号で答えなさい。

	大阪に通勤・通学する人数 (万人)	昼間の人口 (万人)	夜間の人口 (万人)
ア	37.7	521.0	546.5
イ	15.7	119.5	132.4
ウ	10.9	262.9	257.8

選択肢

(日本国勢図会2024/25より作成)

	1	2	3	4	5	6
京都府	ア	ア	イ	イ	ウ	ウ
奈良県	イ	ウ	ア	ウ	ア	イ
兵庫県	ウ	イ	ウ	ア	イ	ア

問5 下線(エ)について、図は近畿地方にある駅の周辺の地図です。地図をもとに地域の特色を説明した文として適当でないものを選び、番号で答えなさい。地図の方位は上が北です。地図は地理院地図より作成。

- 1 線路の北西側には、計画的に作られた住宅地がある。
- 2 線路の南西側の古墳がある地域には起伏が大きな地形がある。
- 3 線路の北側には平らな土地が水田に利用されている。
- 4 線路の南東側には古くからの城下町が残っている。



【3】 次の史料を読み、問いに答えなさい。

A

「わたし」は中国に使いを送り、自らこう伝えた。  
 「<sup>(ア)</sup>わたしの祖先は自らよろいやかぶとを身につけ、山や川をかけめぐり、東は55国… (中略) …95国を平定しました。」… (中略) …中国の皇帝は「わたし」を倭王に任命した。 『宋書』倭国伝

B

(倭からの) 国書には「日の昇るところの天子が日の没するところの天子に書を送ります。ご機嫌いかがですか」などと書かれていた。中国の皇帝はこれを見て <sup>(イ)</sup>機嫌を悪くした。 『(あ)書』倭国伝

C

倭の奴国がおくりものをしてきて朝廷の儀式に参加した。この国は倭の南はじにある。中国の皇帝は金印を与えた。 『(い)書』東夷伝

D

その国はもともと男性を王にしていたが、争いがなかなかおさまらないので、ひとりの女子を立てて王とした。名前を <sup>(ウ)</sup>卑弥呼という。 『(う)志』倭人伝

問1 下線(ア)の「わたし」と同一であるといわれている人物をすべて選び、番号で答えなさい。

- 1 倭王武    2 雄略天皇    3 推古天皇    4 ワカタケル大王    5 聖徳太子

問2 下線(イ)について、中国の皇帝が機嫌を悪くした理由としてもっとも適当だと思われるものを選び、番号で答えなさい。

- 1 自分が出した手紙の質問に答えていなかったから。  
 2 倭の人間が天子を名乗っているから。  
 3 姫を天皇のきさきに寄こすように書かれていたから。  
 4 高句麗と同盟を結んでいることがわかったから。

問3 下線(ウ)が治めた国のあとではないかと注目されている遺跡として適当なものを選び、番号で答えなさい。

- 1 纏向遺跡    2 板付遺跡    3 三内丸山遺跡    4 登呂遺跡

問4 空らん(あ)(い)(う)にあてはまる中国の王朝名として適当な組み合わせを選び、番号で答えなさい。

	1	2	3	4
あ	隋	魏	魏	隋
い	魏	後漢	隋	後漢
う	後漢	隋	後漢	魏

問5 史料AからDに書かれているできごとを古い順に並べなさい。

【4】 次の会話文を読み、問いに答えなさい。

慶一：先日、彦根城<sup>ひこね</sup>に行ってきた。(あ)をつとめた井伊直弼<sup>すけ</sup>のお城だよ。

湘子：(あ)は非常設の役職で、基本的には常設の(い)という役職の人が幕府の政治の中心だったね。

慶一：鎌倉幕府の(う)は北条氏が代々役職についていたけど、(あ)や(い)はどのような人になることができたの？

湘子：江戸時代を通じて大半は(え)から任命されたんだ。

慶一：それ以外の大名は幕府の政治に参加できなかったということ？

湘子：それどころか、3代将軍の頃までには多くの大名が領地<sup>ほ</sup>を没収されたんだ。

慶一：<sup>(ア)</sup>武家諸法度も没収する理由のひとつだったのかな。

湘子：そうだね。そうやって豊臣政権の一大名に過ぎなかった徳川家は、もとの仲間たちをおさえて<sup>(イ)</sup>大きな領土と権力を手にしていったんだ。

問1 空らん(あ)(い)(う)にあてはまる役職をそれぞれ選び、番号で答えなさい。

- 1 守護 2 地頭 3 老中 4 管領 5 大老 6 執権

問2 空らん(え)に当てはまる語句として適当なものを選び、番号で答えなさい。

- 1 親藩 2 外様大名 3 譜代大名 4 御三家

問3 下線(ア)の内容として適当なものを選び、番号で答えなさい。

- 1 一万石以上の大名はお米を差し出すこと。  
2 和を大切にし、争いごとをしないようにしなさい。  
3 城の修理をするときは報告をすること。  
4 以前に売った土地はもとの持ち主のものにしなさい。

問4 下線(イ)についての記述として正しいものには○を、誤っているものには×を記しなさい。

- 1 幕府の領土の石高は、全国の石高の約半分をしめた。  
2 京都や大阪などの重要な都市は、幕府が直接おさめた。  
3 朝鮮との交易のために、幕府は対馬を直接おさめた。

【5】 史料Aは明治政府が示した今後の方針を、わかりやすく言い換えたものです。史料を読み、問いに答えなさい。

史料A

- |   |
|---|
| <p>一 政治のことは<sup>(ア)</sup>会議を開いて、みんなの意見を聞いて決めよう。<br/>一 みんなが心を合わせて、<sup>(イ)</sup>新しい政策を行おう。<br/>一 みんなの志がかなえられるようにしよう。<br/>一 これまでのよくないしきたりを改めよう。<br/>一 <sup>(ウ)</sup>新しい知識を世界から学んで、国を栄えさせよう。</p> |
|---|

問1 史料Aをなんと呼ぶか、解答らん<sup>こたへらん</sup>に書きなさい。

問2 下線(ア)はのちに帝国議会として実現することになる。帝国議会の説明として誤っているものを選び、番号で答えなさい。

- 1 帝国議会は二院制の議会であった。  
2 帝国議会を開いたのち、初代内閣総理大臣として伊藤博文が任じられた。  
3 帝国議会の第一回の選挙で投票できたのは一定額の税金を納めた25歳以上の男子であった。  
4 帝国議会は法律を作ったり予算を決めたりする権限を持っていた。

問3 下線(イ)の説明として適当なものを選び、番号で答えなさい。

- 1 廃藩置県によって、大名を各県知事に任命し、政府の支配を強めた。
- 2 殖産興業をはかり、外国から導入した技術を用いて、経済を発展させた。
- 3 地租改正を行い、毎年一定量の米を納めさせることで、税収が安定した。
- 4 徴兵令を出し、武士出身の男性を兵士にする制度をつくった。

問4 下線(ウ)の説明として適当でないものを選び、番号で答えなさい。

- 1 欧米に大規模な使節団が派遣され、新しい政治の仕組みを学んだ。
- 2 欧米で学んだ留学生によって、日本の医学は進んだ。
- 3 欧米から法律を学んだことで、不平等条約の改正は締結から20年以内に行われた。
- 4 欧米から太陽暦を学び、1日が24時間とされた。

問5 下線(ア)の会議を開いた後の説明として正しいものには○、誤っているものには×を記しなさい。

- 1 1925年に出された普通選挙法によって、20歳以上の男性が参政権を得た。
- 2 大正時代に、女性による政治参加を求める運動が行われていた。
- 3 2.26事件以降、軍部の力が大きくなり、国会における話し合いは行われなくなった。

【6】次の文を読み、問いに答えなさい。

国会は、国会議員の中から(ア)内閣総理大臣を指名します。衆議院と参議院の指名が一致しないとき、両院協議会を開いても意見が一致しないときは、衆議院での結果が優先されることになっています。内閣総理大臣の指名を受けた者は、直ちに(イ)国務大臣を選び、その後、皇居での内閣総理大臣を任命する親任式、国務大臣の認証式を経て、新しい内閣が正式に発足します。2024年9月には、(ウ)自由民主党の総裁選挙が行われましたが、複数の(あ)が解散を表明したため、過去最多の候補者が競い合う形となりました。新しい総裁が選ばれた後には、臨時国会を召集して新しい内閣総理大臣が指名され、新内閣が誕生しました。また同じ月には、野党第一党の(い)党の代表選挙も行われ、注目を集めました。

問1 空らん(あ)(い)にあてはまる語句を答えなさい。(あ)はひらがな3字、(い)は漢字4字で答えなさい。

問2 下線(ア)の前に必ず行われることを選び、番号で答えなさい。

- 1 衆議院の解散
- 2 内閣総辞職
- 3 臨時国会の召集
- 4 特別国会の召集

問3 下線(イ)が担当する行政機関のうち、適当でないものを選び、番号で答えなさい。

- 1 内閣官房
- 2 公正取引委員会
- 3 内閣府
- 4 国家公安委員会

問4 下線(ウ)の説明として適当でないものを選び、番号で答えなさい。

- 1 自由民主党の総裁選挙は、定期的に行われる。
- 2 自由民主党の総裁選挙に立候補するには、一定数の推薦者が必要である。
- 3 自由民主党の総裁選挙は、国会議員だけが投票を行う。
- 4 自由民主党の総裁選挙には、参議院議員でも立候補することができる。

問5 内閣総理大臣が辞任しなければならない理由として適当なものを選び、番号で答えなさい。

- 1 内閣総理大臣が、国民審査によって罷免された場合。
- 2 内閣総理大臣が、内閣総理大臣としての任期を満了した場合。
- 3 内閣総理大臣が、弾劾裁判にかけられて有罪となった場合。
- 4 内閣不信任決議案が可決されてから、衆議院が解散されない場合。

【7】次の文を読み、問いに答えなさい。

日本は自然災害が多く発生する国です。災害に対しては、<sup>(ア)</sup>私たちが自身の日頃の対策（あ）や地域の人びととの協力（い）が不可欠ですが、ひとたび災害が発生すると、国や地方公共団体の取り組みが急務となります。災害が大規模の場合、警察や消防だけではなく、<sup>(ウ)</sup>が派遣されることがあります。また、政府は特定非常災害や激甚災害への指定を<sup>(イ)</sup>閣議決定し、<sup>(ウ)</sup>復旧・復興に向けて幅広い政策や支援につなげていきます。

一方で、災害の発生後には<sup>(エ)</sup>被災者の権利の侵害が問題となることがあります。災害からの復興には様々な支援が必要となりますが、被災者の心に寄りそった働きかけが求められます。

問1 下線（ア）について、空らん（あ）（い）に当てはまる語句の組み合わせを選び、番号で答えなさい。

	1	2	3	4	5	6
あ	公助	共助	公助	自助	自助	共助
い	自助	自助	共助	共助	公助	公助

問2 空らん（う）に当てはまる語句を漢字3字で答えなさい。

問3 下線（イ）の説明として誤っているものを選び、番号で答えなさい。

- 1 テレビなどでは閣議前の様子が報道されるが、会議の内容は非公開である。
- 2 閣議での決定は、多数決を原則としている。
- 3 会合を開かず、閣僚の署名を集めて回る形で行われる場合もある。
- 4 内閣総理大臣が開き、全ての国務大臣が出席して行われる。

問4 下線（ウ）について、政府が行う政策や支援の説明として誤っているものを選び、番号で答えなさい。

- 1 年度中に予算を修正することはできないため、地方債を地方自治体に補助する。
- 2 被災者の負担を軽くするため、一時的に税金を減らす法改正を行う。
- 3 復興に必要な資金を得るため、特別な税金を定める。
- 4 大量のがれきを処理するため、撤去費用を地方自治体に補助する。

問5 下線（エ）について、災害時に起こりうる被災者の権利の侵害を説明した文のうち、平等権について述べたものには○を、それ以外の権利については×をそれぞれ解答らんに入力しなさい。

- 1 うわさや不確かな情報をもとに避難先で差別的な扱いを受けた。
- 2 マスメディアの過度な取材により知られたくない情報が公開されてしまった。
- 3 悪い環境での生活を長い期間せざるを得なかった。
- 4 日本語を話せない外国人が、避難所で必要な支援を受けることができなかった。



訂正

社会の問題 3ページ

【1】問4は削除